

平成13年度自然科学研究科（博士前期課程）

学力試験問題

（理化学専攻・物理学系）

専門科目（物理学）

試験時間 12:30 ~ 16:30

注意事項

1. 問題 I, II, III, IV をすべてを解答すること。
2. 問題 I, II, III, IV はそれぞれ1ページである。
3. 解答は各問題ごとに別の解答用紙を使用し、1枚の解答用紙に複数の問題の解答を書いてはいけない。
4. 各解答用紙の所定欄に、問題番号、受験番号を必ず記入すること。
5. 別途配布する計算用紙は回収しない。

I 図 1-1, 1-2 で与えられる一様重力下での質点の振動に関して、以下の 1. ~ 4. に答えなさい。ただし重力加速度を g とし、振動は各図で紙面で与えられる鉛直平面内に限られているとする。

図 1-1 のように質量 m の質点が、長さ l の質量の無視できる棒で上からつるされて振動する。

1. この場合に角度 θ の運動方程式を求めなさい。ただしこの場合振動は必ずしも微小振動で近似できないとする。

質量 m_1, m_2 の 2 つの質点が図 1-2 のように長さ l_1, l_2 の質量の無視できる棒で上からつるされて振動する。またこの場合は、振動は微小振動で近似できるとする。

2. 角度 θ_1, θ_2 にたいして運動方程式を求めなさい。(微小振動の近似を用いて良いことに注意すること。)

図 1-2 で特に $m_1 = m_2, l_1 = l_2 = l$ の場合には角度 θ_1, θ_2 にたいしての運動方程式は

$$\frac{d^2\theta_1}{dt^2} = \frac{g}{l}(-2\theta_1 + \theta_2)$$

$$\frac{d^2\theta_2}{dt^2} = \frac{g}{l}(2\theta_1 - 2\theta_2)$$

となる。

3. これらの運動方程式を解くと固有振動が 2 つ得られるが、これらの固有振動数を求めなさい。
4. また、角度 θ_1 が最大になる瞬間の固有振動の様子を図示しなさい。

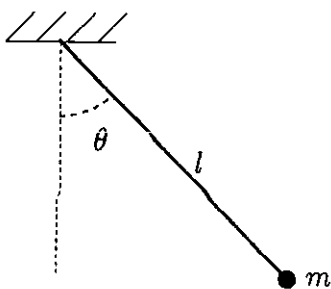


図 1-1

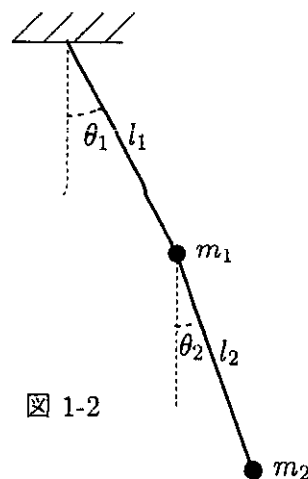


図 1-2

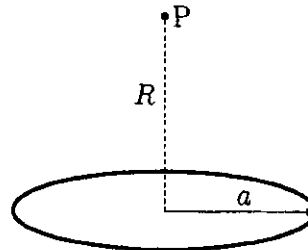
II 次の 1.~ 3. の各問を答えなさい。

1. 表面電荷密度 σ で一様に分布している平面を考える

(1) 平面が無限平面であるとき、平面上の任意の面積を考えて、平面上での電場の大きさとその方向を求めよ。

(2) 平面が半径 a の円板であるとき、中心軸上で距離 R 離れた P 点の電場の大きさとその方向を求めよ。(図 2-1 参照)

図 2-1



2. 長さ $2l$ の直線を考え、ここに一定の電流 I を流す。

(1) 直線の中心から、直線に垂直方向に距離 R にある点 P での磁束密度 B を求めよ。(図 2-2 参照)

(2) 次に、直線の長さ l を無限大にしたときの同じ P 点での磁束密度 B を求めよ。

3. 無限長の直線に電流 I を流し、 $a \times b$ の長方形のコイルを図 2-3 のように下辺が $y = c$ の位置に置く。但しコイルと直線はつねに同一平面内にあるものとする。

(1) 直線に流す電流を $I = I_0 \cos \omega t$ と時間変化させたときのコイルに生ずる起電力 V を求めよ。

(2) 次に直線に流す電流を一定値 I_0 として、コイルを $-y$ 方向へ一定速度 v で動かすとき、下辺が $y = c/2$ 点を通過する瞬間でのコイルに生じる起電力 V を求めよ。

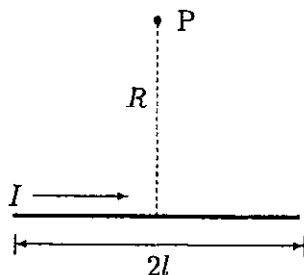


図 2-2

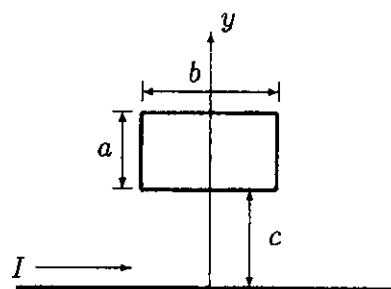


図 2-3

III 次の 1.~ 2. の各問を答えなさい。

1. 図 3-1 のような階段型のポテンシャル

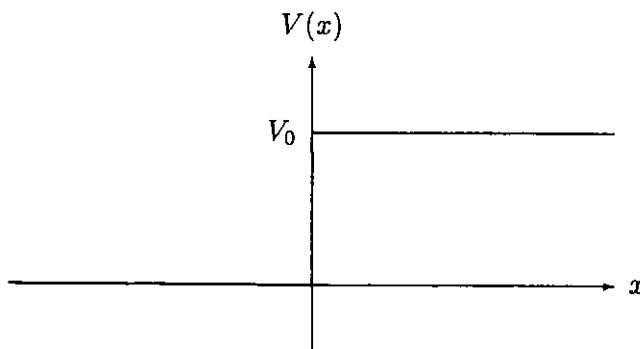
$$V(x) = \begin{cases} V_0 & x > 0 \\ 0 & x < 0 \end{cases}$$

による粒子の 1 次元的な散乱を考える。

$x = -\infty$ からエネルギー $E (> V_0)$ の平面波が入射して来たとして、以下の間に答えよ。

- (1) シュレーディンガー方程式を解いて反射波と透過波を求めよ。
- (2) 確率保存の方程式から確率の流れの密度 $j(x, t)$ の表式を求め、入射波、反射波、透過波に対する確率の流れの密度を求めよ。
- (3) 反射係数、透過係数を求めよ。

図 3-1



2. ハミルトニアン \hat{H}_0 が 2 重に縮退した 1 つのエネルギー固有値 E_0 を持つような、すなわち、2 重に縮退した \hat{H}_0 の固有状態を $|1\rangle$ および $|2\rangle$ とすると、

$$\hat{H}_0 |1\rangle = E_0 |1\rangle, \quad \hat{H}_0 |2\rangle = E_0 |2\rangle$$

が成り立っているような量子系を考える。

この量子系に状態 $|1\rangle$ と $|2\rangle$ とを互いに遷移させる相互作用 \hat{V} :

$$\hat{V} |1\rangle = \lambda |2\rangle, \quad \hat{V} |2\rangle = \lambda |1\rangle$$

が働くと、2 重に縮退した \hat{H}_0 の固有状態の縮退は解かれる。以下の間に答えよ。

- (1) 全ハミルトニアン $\hat{H} = \hat{H}_0 + \hat{V}$ のエネルギー固有値を求めよ。求めたエネルギー固有値に対応する規格化されたエネルギー固有状態を、状態 $|1\rangle$ と $|2\rangle$ の一次結合として求めよ。
- (2) この量子系が時刻 $t = 0$ において状態 $|1\rangle$ にあったとする。時刻 t における状態を求めよ。この結果を用いて、時刻 t においてこの量子系の状態が $|1\rangle$ または $|2\rangle$ にある確率をそれぞれ求めよ。またそれらを図示せよ。
- (3) このような簡単なハミルトニアンで良い近似で、また系の本質的な振る舞いを記述することが出来る現実的な量子系が沢山存在する。そのような量子系の具体例を 1 つ述べて説明せよ。

IV 次の 1.~6. を答えよ。

一辺 L のマクロな大きさの立方体の箱 (体積 $V = L^3$) の中に、質量 m の古典自由粒子がマクロな数 N 個入っている。ハミルトニアンは

$$H_N = \sum_{i=1}^N \frac{p_i^2}{2m}$$

である。

1. 箱が温度 $\beta = 1/kT$ の熱浴に囲まれているとして、カノニカル分布の分配関数

$$Z(N, \beta, V) = \frac{1}{N! h^{3N}} \int dq_1 dq_2 \cdots dq_N \int dp_1 dp_2 \cdots dp_N e^{-\beta H_N}$$

を計算せよ。

- ギブスのパラドクスとは何か、この問題に即して簡単に説明せよ。
- この系のヘルムホルツの自由エネルギー $F(N, T, V)$ を求めよ。結果は、 F の示量性が明示的となる形に整理すること。
- この系の内部エネルギー $E(N, T, V)$ を計算し、その結果をエネルギー等分配則を用いて説明せよ。

次に、箱の中に入っているのが量子論的自由粒子である場合を考える。周期境界条件で 1 粒子のシュレディンガー方程式を解くと、固有エネルギーと固有関数は、それぞれ

$$\epsilon_{\mathbf{k}} = \frac{\hbar^2 \mathbf{k}^2}{2m}, \quad \phi_{\mathbf{k}}(\mathbf{r}) = \frac{1}{\sqrt{V}} e^{i\mathbf{k} \cdot \mathbf{r}}$$

と求められる。ただし、 $n_i = 0, \pm 1, \pm 2, \dots$ ($i = 1, 2, 3$) として、

$$\mathbf{k} = \frac{2\pi}{L}(n_1, n_2, n_3)$$

である。

5. 粒子が 1 個である場合、積分移行

$$\sum_{\mathbf{k}} \cdots \implies \frac{V}{(2\pi)^3} \int d\mathbf{k} \cdots$$

を用いてカノニカル分布の分配関数 $Z(1, \beta, V)$ を計算し、古典論での結果と比較せよ。また、積分移行が使えなくなるのはどういう場合か、簡単に述べよ。

6. 粒子が複数個入っている場合は、古典自由粒子系と異なり、 N 粒子系に対する公式

$$Z(N, \beta, V) = \frac{1}{N!} [Z(1, \beta, V)]^N$$

を用いて分配関数を計算するわけにはいかない。ボーズ粒子系、フェルミ粒子系のそれぞれについて、この公式がどう破綻するか、具体的に説明せよ。

以下の公式は証明なしに用いてよい。積分公式：

$$\int_{-\infty}^{\infty} dx e^{-ax^2} = \sqrt{\frac{\pi}{a}} \quad (a > 0)$$

スターリングの公式：

$$\ln n! = n \ln n - n \quad (n \gg 1)$$